

TÜRKÇE

Yüzü çilli küçük çocuk
sabah uyandığında
her yer bembeyazdı.
Soğuktan üşüse de
içinde büyük bir heyecan
vardı. Sonunda kartopu
oynayıp,
çok sevdiği arkadaşı
Pamuk Çocuk'a kavuşacaktı.
Tek isteği, Pamuk Çocuk'un güneş
açtığında çabucak eriyip
gitmemesiydi.



(İlk üç soruyu parçaya göre cevaplayınız)

1) Parçada geçen hikaye hangi
mevsimde geçmektedir?

- A) Yaz
- B) Kış
- C) Sonbahar

2) Parçada geçen Pamuk Çocuk
aşağıdakilerden hangisidir?

- A) Kartopu oynayan çocuk
- B) Yüzü çilli küçük çocuk
- C) Kardan adam

3) Çocuğun tek istediği şey nedir?

- A) Güneş açtığında Pamuk Çocuğun
gitmemesi.
- B) Soğuktan üşümemesi.
- C) Arkadaşları ile kartopu oynamak
istememesi.

4)

Sipor	Saat	Tiren	Kiroki
Dolap	Karpus	Meyve	Örenci

Yukarıdaki kelimelerden kaç tanesinin
yazımı yanlıştır?

- A) 4
- B) 5
- C) 3

5)



Hangisi yukarıdaki görsele bakarak
yazılabilecek bir cümle değildir?

- A) Arkadaşlarımla futbol oynamayı
severim.
- B) Hayvanlarla vakit geçiririm.
- C) Köpeklerle top oynamak hoşuma
gider.

6) Aşağıdaki sözcük çiftlerinden
hangisi anlam ilişkisine göre
diğerlerinden farklıdır?

- A) Acemi-Usta
- B) Cimri-Cömert
- C) Fayda-Yarar


7) Aşağıdaki hayvanların isimlerinde
en çok hangi harf vardır?



A) i



B) e



C) k

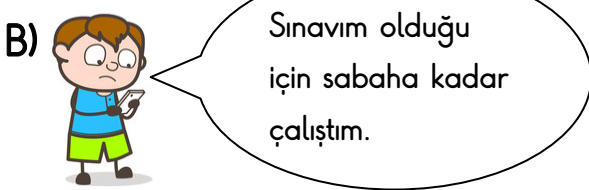
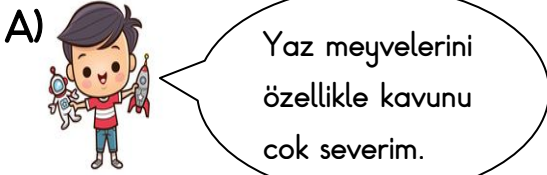
8) Aşağıdakilerden hangisinin sonuna farklı bir noktalama işareti konulmalıdır?

- A) Neden böyle yapıyorsun ()
 B) Annem iyi olup olmadığımı sordu ()
 C) Bütün gün kitap okudum ()

9) Aşağıdaki atasözlerinden hangisinin anlamı diğerlerinden farklıdır?

- A) Üzüm üzüme baka baka kararır.
 B) İyilik eden iyilik bulur.
 C) Körle yatan şaşı kalkar.

10) Hangi çocuğun cümlesinde sebep sonuç ilişkisi vardır?



11) Balçık - Aylık - Bal - Balık

Yukarıdaki kelimeleri sözlükteki yerlerine göre sıraladığımızda baştan 3.kelime hangisidir?

- A) Balçık B) Balık C) Aylık

12) "Dayım, işe gitmişti."
 Yukarıda verilen cümlede boş bırakılan yere aşağıdaki kelimelerden hangisi getirelemez?

- A) Sabah B) Dün C) Yarın

13) "Dil" sözcüğü hangi cümlede diğerlerinden farklı anlamda kullanılmıştır?

- A) Ağzımdaki lokma varken konuşunca dilimi ısırđım.
 B) Yeni bir dil öğrenmek için kursa gitti.
 C) Süt çok sıcaktı dilim yandı.

14) "Özgür, mahallenin toprak sahasında futbol oynadı."
 Cümlesinde hikaye unsurlarından hangisi yoktur?



- A) Zaman B) Yer C) Ana Karakter

15) I. Ankara'ya uçakla gitmeye karar verdik.

II. Uçağa binince çok korktum.

III. Taksi ile havaalanına gittik.

Yukarıda verilen cümlelerin doğru sıralanışı hangisidir?

- A) III-I-II B) I-II-III C) I-III-II

MATEMATİK

1)



Cebimdeki paralar ile 60 Kr'luk bir şeker alırsam, para üstü olarak ne kadar almam gerekir?

- A) 3 TL 25 Kr
B) 4 TL 35Kr
C) 3TL 15 Kr

2) Aşağıdakilerden hangisi yanlış bir ifadedir?

- A) Duvar düzlemse, duvara astığımız resim düzlemsel şekildir.
B) Halı düzlemsel şekil, halının üstündeki desenler düzlemdir.
C) Bulmaca düzlemse, bulmacanın parçaları düzlemsel şekildir.

3) Aşağıdaki toplama işlemlerinin tahmini sonucu hangi şıkta yanlış verilmiştir.

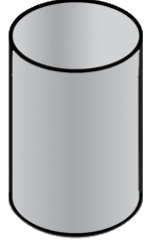
- A) $365+224 \Rightarrow 590$
B) $189+170 \Rightarrow 260$
C) $431+263 \Rightarrow 690$

4) Aşağıdaki geometrik cisimlerin hangisinin açılımında daha fazla dikdörtgensel şekil vardır?

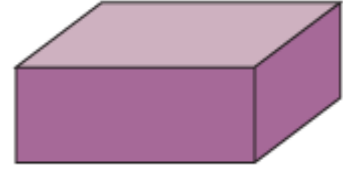
A)



B)



C)



5)

$$A = 15 + 25$$

$$B = 20 + 30$$

A ve B sayıları zihinden toplandığında aşağıdakilerden hangisine ulaşırız?

- A) 90 B) 80 C) 95

6)

Kalem	1 TL
Silgi	50 Kr
Cetvel	3 TL
DeFTER	2 TL


Elif, bu kırtasiyeden 2 silgi, 1 cetvel ve 4 kalem alırsa ne kadar öder?

- A) 8 TL B) 7 TL 50 Kr C) 9 TL

- 7) $\begin{array}{|c|} \hline 606 \\ \hline \end{array} \xrightarrow{1} \text{Altı yüz altmış}$
 $\begin{array}{|c|} \hline 390 \\ \hline \end{array} \xrightarrow{2} \text{Üç yüz doksan}$
 $\begin{array}{|c|} \hline 907 \\ \hline \end{array} \xrightarrow{3} \text{Dokuz yüz yedi}$

Yukardaki sayılardan hangisinin okunuşu yanlış verilmiştir?

- A) 1 B) 2 C) 3

- 8)  777 sayısının hangi basamağındaki 7'nin sayı değeri ve basamak değeri, birbirine eşittir?

- A) Yüzler Basamağı
B) Onlar Basamağı
C) Birler Basamağı




- 9) 287 sayısı için aşağıdakilerden hangisi yanlıştır?

- A) Sayı değeri en büyük olan rakam 8'dir.
B) 2 onluk 8 birlik 7 yüzlükten oluşmuştur.
C) Yüzler basamağındaki sayının basamak değeri 200'dür.










10) $19 - 5 = ?$

İşleminin sonucunun Romen rakamları ile gösterilişi hangisidir?

- A) XVI B) XIX C) XIV

- 11)  709  790  719

Meyvelerin küçükten büyüğe sıralanışı hangi şıkta doğru verilmiştir?

- A)  -  - 
B)  -  - 
C)  -  - 

- 12) $\begin{array}{|c|} \hline 103 \\ \hline \end{array} + \begin{array}{|c|} \hline 65 \\ \hline \end{array} + \begin{array}{|c|} \hline 26 \\ \hline \end{array} \rightarrow \begin{array}{|c|} \hline \square \\ \hline \end{array} + \begin{array}{|c|} \hline \square \\ \hline \end{array} \rightarrow A$

Yukarıdaki toplama işlemine göre A kaçtır?

- A) 258 B) 259 C) 249

- 13) $\begin{array}{|c|} \hline 3 \\ \hline \end{array} \begin{array}{|c|} \hline 5 \\ \hline \end{array} \begin{array}{|c|} \hline 4 \\ \hline \end{array} \begin{array}{|c|} \hline 6 \\ \hline \end{array} \begin{array}{|c|} \hline 5 \\ \hline \end{array} \begin{array}{|c|} \hline ? \\ \hline \end{array}$

Yukarıdaki örüntüde "?" yerine hangi sayı gelmelidir?

- A) 7 B) 6 C) 4

- 14) $\begin{array}{r} 218 \\ + 106 \\ \hline 364 \end{array}$ Yandaki toplama işleminde "106" yerine hangi sayı gelmelidir?

- A) 5 B) 8 C) 4

15) Yandaki bisikletin fiyatı en yakın olduğu onluğa yuvarlanarak yazılmıştır.



Buna göre bu bisikletin fiyatı aşağıdakilerden hangisi olamaz?

- A) 296 B) 294 C) 303

FEN BİLİMLERİ

1) I.Dünya'mızın şekli küpe benzer.

II.Dünya'mız alttan ve üstten basık, yanlardan şişkindir.

III.Dünya'mızda bir noktadan başlayıp yönümüzü hiç değiştirmeden gidersek yine başladığımız noktaya dönmeyiz.

Yukarıda dünyamız ile ilgili verilen bilgilerden hangileri doğrudur?

- A) I ve III B) Yalnız II C) I, II ve III

2)



Bazı cisimlere kuvvet uyguladığımızda şekli değişir. Bu cisimlere uygulanan kuvvet ortadan kalktığında eski hallerine dönerler.

Kuşun konuşmasında bahsettiği özellik hangisidir?

- A) Kırılganlık B) Yumuşaklık C) Esneklik

3)

Deprem

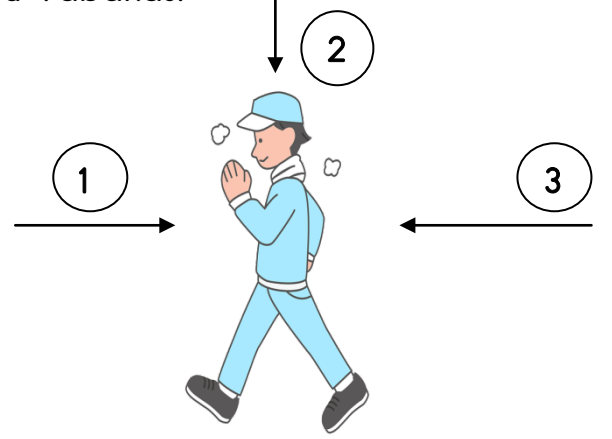
Yağmur

Rüzgar

Yukarıda verilen olaylardan hangisi kara tabakasında meydana gelir?

- A) Hava Tabakası
B) Kara Tabakası
C) Su Tabakası

4)



Yukarıda yürüyen insanı hızlandırmak ve yavaşlatmak için hangi yönde kuvvet uygulanmalıdır?

	Hızlanması	Yavaşlaması
A)	3	1
B)	1	3
C)	3	2

5) Dünya'mız ile ilgili verilen bilgilerden hangisi yanlıştır?

- A) Dünya'mızda sular karalardan daha fazla yer kaplar.
B) Dünya'mızda sular karaların 3 katı kadardır.
C) Kara Tabakasının diğer adı Yer Kabuğu'dur.

6) Gözleri bağlı olan bir çocuk annesinin verdiği sünger için, "Anneciğim, bu esnek bir madde" diyor. Bu çocuk süngerin esnek olduğunu hangi organıyla anlamıştır?

- A) Derisiyle
- B) Kulağıyla
- C)Gözleriyle

7)



Yukarıdaki kız alışveriş arabasına hangi kuvvetleri uygulamaktadır?

1.Resim

2.Resim

- | | |
|----------|-------|
| A) Çekme | İtme |
| B) İtme | Çekme |
| C) İtme | İtme |

8)



Eve geldiğimde içerden mis gibi kek kokusu geliyordu. Hızlıca odaya gittim ve keki yemek için aldım. Fakat kek elimi yaktı.

Ecrin, anlattığı hikayede sırasıyla hangi duyu organlarını kullanmıştır?

- A) Kulak-Burun
- B) Burun-Deri
- C) Göz-Deri

9) - Güneşe çıkan ablamın güneş gözlüğü takması.

- Temizlik yapan annemin eldiven giymesi.

Yukarıdaki cümlelerde bahsi geçen kişiler hangi duyu organlarını korumuştur?

- A) Göz - Deri
- B) Deri - El
- C) Kulak - Burun

10) Aşağıdakilerden hangisinde hızlanma hareketi yoktur?

- A) Kalkış yapan tren
- B) Yokuş aşağı kayan çocuk
- C) Durağa yaklaşan otobüs

HAYAT BİLGİSİ

1) Aşağıdakilerden hangisini yaparsak yanlış davranmamış oluruz?

- A) Oyun oynarken sadece sevdiğim arkadaşımı oyuna alırsam.
- B) Kavgaya eden arkadaşlarımı ayırırsam.
- C) Kavgaya eden arkadaşlarımdan en sevdiğimin yanında olup kavgaya karışırsam.

2) Aşağıdaki ifadelerden hangisi yanlıştır?

- A) Kabul edemeyeceğimiz davranışları kibarca reddetmeliyiz.
- B) İyi niyetli gözüken herkesin her dediğini yapmalıyız.
- C) Tanımadığımız kişilerin isteklerini reddetmeliyiz.

3) Atatürk'ün annesinin ve babasının isteğiyle gittiği okullar hangisidir?

Annesinin

Babasının

- A) Mahalle Mektepi -Şemsi Efendi İlk.
- B) Şemsi Efendi İlk.-Askeri Ortaokul
- C)Şemsi Efendi İlk.-Mahalle Mektebi

4)

- +Reklamlarda görünen her şey kalitelidir.
- +Bir ürünü alırken önce son kullanma tarihine bakmalıyız.
- +Ürünlerde TSE damgası olmalı.
- +Hem ucuz hem kaliteli olmalı.

Yukarıda verilenlerden kaç tanesi doğrudur?

A) 4

B)2

C)3

5)



Bu arabayı kimler kullanabilir?

- A)Sürücü belgesi olan herkes
- B) 20 yaşından büyükler.
- C)Araba sürmesini bilen erkekler.

6)



Ben ders çalışırken kısa kısa notlar tuttuğumda çok daha iyi öğreniyorum.

Yukarıdaki çocuk hangi yöntem ile daha iyi öğrenebilmektedir?

- A)Görerek öğrenme
- B)Dinleyerek öğrenme
- C)Yazarak öğrenme

7) Ayşe: Ödevini çok beğendim çok güzel olmuş.

Mehmet:

Yukarıdaki konuşmaya göre Mehmet nasıl cevap vermelidir?

- A) Tabi ki güzel olacak ben yaptım çünkü.
- B)Çok teşekkür ederim.
- C)Ödevime bakma! Kopya mı çekiyorsun?

8)



Okul kulüpleri birçok olumlu özelliğimizi ortaya çıkarır. Aşağıdakilerden hangisi bu olumlu özelliklerden değildir?

- A) Kıskançlık
- B) Yardımlaşma
- C) Yetenek

9) Yandaki çocuk hangi duyguyu yaşıyordur?

- A) Şaşkınlık
- B) Mutluluk
- C) Korku



10) Evimize giderken yanımıza yaklaşan ve "Ben polisim hadi seni babana götüreceğim." diyen birisine nasıl cevap vermeliyiz?

- A) Tamam hadi gidelim.
- B) Hayır. Ben sizi tanımıyorum.
- C) Bir dakika kardeşimi de çağırayım.


İNGİLİZCE

1) Bu sayının okunuşu hangisidir?

16

- A) Sixteen B) Seventeen C) Nineteen

2)



Öğretmenin sorduğu soruya cevap vermek isteyen Can, hangi cümleyi kurmalıdır?

- A) I'm ready.
- B) Say that again please.
- C) Can I answer?

3)




Aşağıdakilerden hangisi bu ailenin üyesi değildir?

- A) Brother B) Uncle C) Father

4)

He is my friend.

Aşağıdakilerden hangisi bu cümledeki kişi değildir?



5) Aşağıdakilerden hangisi bu çocuk için söylenebilir?

- A) He is strong.
B) He is heavy.
C) He is old.



6) "Can you play tennis?"

Sorusuna bu çocuk hangi cevabı vermelidir?

- A) No. I cant.
B) Yes. She can.
C) Yes. I can.




7)Yandaki resimdeki kişinin özelliğinin karşıt anlamısı aşağıdakilerden hangisidir?

- A)Fast
B)Old
C)Young



8)



Resimdeki hayvanın en belirgin özelliği nedir?

- A) Jump B) Slow C) Big

9) +Can he jump high?

- Yes.

Konuşma nasıl tamamlanmalıdır?

- A) He can. B) he can't C) I can

10) Yandaki resimdeki kadının özelliği aşağıdakilerden hangisidir?

- A) Thin
B) Small
C) Strong



ADI :
 SOYADI :
 OKULU :
 SINIFI :

- Cevap kağıdınızda size ait bilgileri yazıp kodlamaları kontrol ediniz.
- Bu testte her bir soru için tek bir doğru cevap yeri vardır. Birden fazla işaretlerseniz o soru geçersiz sayılacaktır.
- Cevaplarınızı koyu siyah ve yumuşak bir kurşun kalemle işaretleyiniz. İşaretlerinizi cevap yerinin dışına taşırmayınız.
- Cevap kağıdınızı buruşturmayınız, herhangi bir işaret koymayınız.
- Değiştirmek istediğiniz bir cevabı yumuşak bir silgiyle cevap kağıdını kırıştırmadan temizce siliniz ve yeni cevabınızı işaretlemeyi unutmayınız.

SINAV NUMARASI

1 2 3 4 5 6 7 8

ÖRNEK
KODLAMA

- DOĞRU
 ✗ YANLIŞ
 ● YANLIŞ
 ● YANLIŞ
 ✓ YANLIŞ

ÖĞRENCİNİN İMZASI

SOYADI- ADI (Soyadı, adı arasında bir boşluk bırakınız)																									
A	A	A	A	A	A	A	A	A	A	A	A	A	A	A	A	A	A	A	A	A	A	A	A	A	A
B	B	B	B	B	B	B	B	B	B	B	B	B	B	B	B	B	B	B	B	B	B	B	B	B	B
C	C	C	C	C	C	C	C	C	C	C	C	C	C	C	C	C	C	C	C	C	C	C	C	C	C
Ç	Ç	Ç	Ç	Ç	Ç	Ç	Ç	Ç	Ç	Ç	Ç	Ç	Ç	Ç	Ç	Ç	Ç	Ç	Ç	Ç	Ç	Ç	Ç	Ç	Ç
D	D	D	D	D	D	D	D	D	D	D	D	D	D	D	D	D	D	D	D	D	D	D	D	D	D
E	E	E	E	E	E	E	E	E	E	E	E	E	E	E	E	E	E	E	E	E	E	E	E	E	E
F	F	F	F	F	F	F	F	F	F	F	F	F	F	F	F	F	F	F	F	F	F	F	F	F	F
G	G	G	G	G	G	G	G	G	G	G	G	G	G	G	G	G	G	G	G	G	G	G	G	G	G
Ğ	Ğ	Ğ	Ğ	Ğ	Ğ	Ğ	Ğ	Ğ	Ğ	Ğ	Ğ	Ğ	Ğ	Ğ	Ğ	Ğ	Ğ	Ğ	Ğ	Ğ	Ğ	Ğ	Ğ	Ğ	Ğ
H	H	H	H	H	H	H	H	H	H	H	H	H	H	H	H	H	H	H	H	H	H	H	H	H	H
I	I	I	I	I	I	I	I	I	I	I	I	I	I	I	I	I	I	I	I	I	I	I	I	I	I
İ	İ	İ	İ	İ	İ	İ	İ	İ	İ	İ	İ	İ	İ	İ	İ	İ	İ	İ	İ	İ	İ	İ	İ	İ	İ
J	J	J	J	J	J	J	J	J	J	J	J	J	J	J	J	J	J	J	J	J	J	J	J	J	J
K	K	K	K	K	K	K	K	K	K	K	K	K	K	K	K	K	K	K	K	K	K	K	K	K	K
L	L	L	L	L	L	L	L	L	L	L	L	L	L	L	L	L	L	L	L	L	L	L	L	L	L
M	M	M	M	M	M	M	M	M	M	M	M	M	M	M	M	M	M	M	M	M	M	M	M	M	M
N	N	N	N	N	N	N	N	N	N	N	N	N	N	N	N	N	N	N	N	N	N	N	N	N	N
O	O	O	O	O	O	O	O	O	O	O	O	O	O	O	O	O	O	O	O	O	O	O	O	O	O
Ö	Ö	Ö	Ö	Ö	Ö	Ö	Ö	Ö	Ö	Ö	Ö	Ö	Ö	Ö	Ö	Ö	Ö	Ö	Ö	Ö	Ö	Ö	Ö	Ö	Ö
P	P	P	P	P	P	P	P	P	P	P	P	P	P	P	P	P	P	P	P	P	P	P	P	P	P
R	R	R	R	R	R	R	R	R	R	R	R	R	R	R	R	R	R	R	R	R	R	R	R	R	R
S	S	S	S	S	S	S	S	S	S	S	S	S	S	S	S	S	S	S	S	S	S	S	S	S	S
Ş	Ş	Ş	Ş	Ş	Ş	Ş	Ş	Ş	Ş	Ş	Ş	Ş	Ş	Ş	Ş	Ş	Ş	Ş	Ş	Ş	Ş	Ş	Ş	Ş	Ş
T	T	T	T	T	T	T	T	T	T	T	T	T	T	T	T	T	T	T	T	T	T	T	T	T	T
U	U	U	U	U	U	U	U	U	U	U	U	U	U	U	U	U	U	U	U	U	U	U	U	U	U
Ü	Ü	Ü	Ü	Ü	Ü	Ü	Ü	Ü	Ü	Ü	Ü	Ü	Ü	Ü	Ü	Ü	Ü	Ü	Ü	Ü	Ü	Ü	Ü	Ü	Ü
V	V	V	V	V	V	V	V	V	V	V	V	V	V	V	V	V	V	V	V	V	V	V	V	V	V
Y	Y	Y	Y	Y	Y	Y	Y	Y	Y	Y	Y	Y	Y	Y	Y	Y	Y	Y	Y	Y	Y	Y	Y	Y	Y
Z	Z	Z	Z	Z	Z	Z	Z	Z	Z	Z	Z	Z	Z	Z	Z	Z	Z	Z	Z	Z	Z	Z	Z	Z	Z

TÜRKÇE

- 1 (A) (B) (C) (D)
 2 (A) (B) (C) (D)
 3 (A) (B) (C) (D)
 4 (A) (B) (C) (D)
 5 (A) (B) (C) (D)
 6 (A) (B) (C) (D)
 7 (A) (B) (C) (D)
 8 (A) (B) (C) (D)
 9 (A) (B) (C) (D)
 10 (A) (B) (C) (D)
 11 (A) (B) (C) (D)
 12 (A) (B) (C) (D)
 13 (A) (B) (C) (D)
 14 (A) (B) (C) (D)
 15 (A) (B) (C) (D)
 16 (A) (B) (C) (D)
 17 (A) (B) (C) (D)
 18 (A) (B) (C) (D)
 19 (A) (B) (C) (D)
 20 (A) (B) (C) (D)

MATEMATİK

- 1 (A) (B) (C) (D)
 2 (A) (B) (C) (D)
 3 (A) (B) (C) (D)
 4 (A) (B) (C) (D)
 5 (A) (B) (C) (D)
 6 (A) (B) (C) (D)
 7 (A) (B) (C) (D)
 8 (A) (B) (C) (D)
 9 (A) (B) (C) (D)
 10 (A) (B) (C) (D)
 11 (A) (B) (C) (D)
 12 (A) (B) (C) (D)
 13 (A) (B) (C) (D)
 14 (A) (B) (C) (D)
 15 (A) (B) (C) (D)
 16 (A) (B) (C) (D)
 17 (A) (B) (C) (D)
 18 (A) (B) (C) (D)
 19 (A) (B) (C) (D)
 20 (A) (B) (C) (D)

FEN VE TEK. /
FEN BİL.

- 1 (A) (B) (C) (D)
 2 (A) (B) (C) (D)
 3 (A) (B) (C) (D)
 4 (A) (B) (C) (D)
 5 (A) (B) (C) (D)
 6 (A) (B) (C) (D)
 7 (A) (B) (C) (D)
 8 (A) (B) (C) (D)
 9 (A) (B) (C) (D)
 10 (A) (B) (C) (D)
 11 (A) (B) (C) (D)
 12 (A) (B) (C) (D)
 13 (A) (B) (C) (D)
 14 (A) (B) (C) (D)
 15 (A) (B) (C) (D)
 16 (A) (B) (C) (D)
 17 (A) (B) (C) (D)
 18 (A) (B) (C) (D)
 19 (A) (B) (C) (D)
 20 (A) (B) (C) (D)

SOSYAL BİLGİLER
(HAYAT BİLGİSİ)

- 1 (A) (B) (C) (D)
 2 (A) (B) (C) (D)
 3 (A) (B) (C) (D)
 4 (A) (B) (C) (D)
 5 (A) (B) (C) (D)
 6 (A) (B) (C) (D)
 7 (A) (B) (C) (D)
 8 (A) (B) (C) (D)
 9 (A) (B) (C) (D)
 10 (A) (B) (C) (D)
 11 (A) (B) (C) (D)
 12 (A) (B) (C) (D)
 13 (A) (B) (C) (D)
 14 (A) (B) (C) (D)
 15 (A) (B) (C) (D)
 16 (A) (B) (C) (D)
 17 (A) (B) (C) (D)
 18 (A) (B) (C) (D)
 19 (A) (B) (C) (D)
 20 (A) (B) (C) (D)

İNGİLİZCE

- 1 (A) (B) (C) (D)
 2 (A) (B) (C) (D)
 3 (A) (B) (C) (D)
 4 (A) (B) (C) (D)
 5 (A) (B) (C) (D)
 6 (A) (B) (C) (D)
 7 (A) (B) (C) (D)
 8 (A) (B) (C) (D)
 9 (A) (B) (C) (D)
 10 (A) (B) (C) (D)
 11 (A) (B) (C) (D)
 12 (A) (B) (C) (D)
 13 (A) (B) (C) (D)
 14 (A) (B) (C) (D)
 15 (A) (B) (C) (D)
 16 (A) (B) (C) (D)
 17 (A) (B) (C) (D)
 18 (A) (B) (C) (D)
 19 (A) (B) (C) (D)
 20 (A) (B) (C) (D)